

CUADERNILLO DE ACTIVIDADES DE REPASO
MAESTRA DIANA VALDEZ
HISTORIA 1

Actividad 1

- Explica quiénes conformaban las siguientes castas en la Nueva España.

a) Criollos:

b) Mestizos:

1. ¿Qué tipo de gobierno había en la Nueva España y cuáles eran sus características?










2. Responde ¿para qué crees que son útiles las fronteras entre países en la actualidad?


• **Subraya tres características de la Edad Media**

- a) Los señores feudales controlaban la tierra y su producción.
- b) Los siervos trabajaban la tierra y recibían una paga por ello.
- c) Los monjes de diversas órdenes religiosas conservaron el conocimiento.
- d) La monarquía era un sistema político muy común.
- e) El islam fue la religión más predominante en oriente y occidente.
- f) Se dio un conflicto entre musulmanes y cristianos, llamado Las Cruzadas.

Actividad 2

• Escribe qué actividad están realizando los siguientes seres humanos e ilumina sólo las que representan actividades que realizaba el hombre prehistórico



• Descubre 5 intrusos en la prehistoria y escribe sus nombres en las líneas:
Ilumina.

1. _____
2. _____
3. _____
4. _____
5. _____

• Contesta lo siguiente:

1. ¿Cómo obtenían carne los seres humanos antes de ser cazadores?

2. ¿Por qué razón el hombre prehistórico se convirtió en cazador?

3. ¿Por qué los seres humanos, que eran cazadores y recolectores, eran también nómadas?

4. Haz un dibujo de las armas y herramientas utilizadas por el hombre prehistórico. Ilumina.



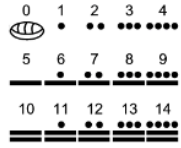




Actividad 3

• Escribe el nombre de la civilización que nos legó lo que se muestra en las imágenes (Ilumina)

 La rueda	 El papel	 La escritura
 El derecho	 La democracia	 Numeración indo arábiga
 Cosméticos	 Brújula	 Olimpiadas
 Acueductos	 Pólvora	 Lenguas romances

Actividad 4

• Escribe a qué cultura mesoamericana corresponde cada imagen

 <input type="text"/>	 <input type="text"/>	 <input type="text"/>
 <input type="text"/>	 <input type="text"/>	 <input type="text"/>
		 <input type="text"/>

• **Relaciona las columnas**

- | | |
|--|------------------|
| 1.- Se le conoce como la "Cultura madre": | () Teotihuacán |
| 2.- Es la "Ciudad de los Dioses": | () Tenochtitlan |
| 3.- Esta cultura creó un sistema de numeración vigesimal que incluía el número cero: | () Monte Albán |
| 4.- Fue la capital del imperio tolteca: | () Tula |
| 5.- Principal ciudad de los zapotecas: | () Clásico |
| 6.- Este imperio fue conquistado por los españoles al mando de Hernán Cortés: | () Preclásico |
| 7.- Principal ciudad de los mexicas: | () Posclásico |
| 8.- ¿En qué periodo se ubica la cultura Olmeca: | () Olmeca |
| 9.- ¿En qué periodo se ubican la cultura tolteca y mexicana? | () Maya |
| 10.- ¿En qué periodo se ubican las culturas: maya, teotihuacana y zapoteca? | () Mexica |



Actividad 5


• Encuentra en la sopa de letras 10 palabras relacionadas con el FEUDALISMO y con ellas completa el siguiente texto:



1. En la Edad Media el _____ fue la forma de organización política y económica de países como Francia, España, Alemania, Italia e Inglaterra.
2. El feudalismo era una forma de producción integrada por dos partes: el señor _____ que era el dueño de la tierra, y el _____, que para tener comida debía obedecer y trabajar las tierras del primero.
3. El poder y la riqueza de las personas dependían de la cantidad de _____ que tuvieran bajo su poder. Al territorio bajo sus dominios se le llamaba _____. La principal actividad económica fue la _____.
4. El _____ era la mayor autoridad en un reino y el responsable de impartir justicia. Al morir el rey uno de sus descendientes directos heredaba la _____.
5. El centro de la organización feudal fueron los _____, donde se llevaban a cabo las actividades económicas, administrativas y judiciales, y además servía como refugio durante las _____.

Actividad 6

•Observa y contesta



1.- ¿Cuál era la finalidad de Cristóbal Colón cuando inició el viaje que lo llevó al descubrimiento de América? _____

2.- Nombra a los tres reinos a los cuales Cristóbal Colón presentó su proyecto de navegar al Oeste para llegar a India y China: _____

3.- ¿Qué error encontraron los catedráticos de la Universidad de Salamanca de España en los cálculos de Colón? _____

4.- ¿Quiénes le dieron el apoyo a Colón para realizar este viaje? _____

5.- ¿Cuál fue la primera isla americana a la que Colón llegó el 12 de octubre de 1492?
_____ cómo fue nombrada por los españoles? _____

6.- ¿Por qué a los pobladores de estas tierras se les llamó indios? _____

7.- Nombra 3 beneficios que obtuvieron los europeos con los viajes de exploración:

a) _____

b) _____

c) _____

8.- ¿Qué efecto destructivo tuvo para las poblaciones de América este descubrimiento?

